




一、單一選擇題 (

1.() 幾位同學正在分享對「文化」此一概念的理解，下列何人的說明完全正確？

- (A)  每個社會都有結婚儀式，說明文化有差異性。
- (B)  文化具有普遍性，並非是人類社會所特有的現象。
- (C)  宗教屬個人信仰，不包含在文化內涵之中。
- (D)  文化是指某一群人所共享的生活方式。

答案：(D)

解析：(A)普遍性(B)文化是人類社會特有的現象(C)文化亦包含宗教。

2.() 中國唐朝崇尚「豐腴」的女人，所以楊貴妃在唐朝時是第一美人；宋朝的審美觀則以「纖弱瘦小」為美，也開始有纏足的風氣。由上述各朝代所展現的審美觀可以發現，文化會隨著時代變遷而顯現出哪一項特性？ (A)累積性 (B)普遍性 (C)差異性 (D)制約性。

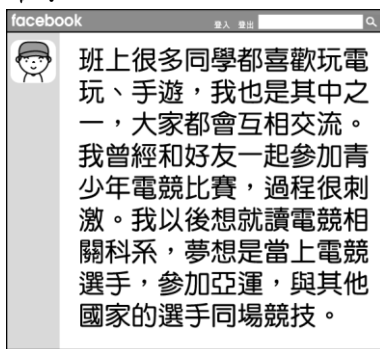
答案：(C)

3.() 文化存在於世界各個角落，不論是都市或鄉村，甚至是原始的森林中，只要有人類的足跡，就會發展出自己的文化。請問：這顯示出文化的哪一項特性？ (A)累積性 (B)制約性 (C)普遍性 (D)差異性。

答案：(C)

解析：有人類就會發展出自己的文化，這說明文化具有普遍性。

4.() 一名青少年在社群媒體上發表近況，如附圖所示，根據圖中敘述，下列何項正確？



(A) 電競教育已經成為我國教育的主流文化 (

B) 青少年電競活動屬於其族群的獨特文化 (C) 與其他文化相比，電競活動較為次等 (D) 電競文化無法與社會中各文化同時共存。

答案：(B)

解析：電競活動屬於一種青少年次文化，與其他文化相比，並無高低優劣之分，現在與其他運動一起被亞運會列入正式比賽項目之中。

5.() 附圖為青少年玩線上遊戲時的聊天訊息，他們使用的網路用語為其發展出來的獨特文化，稱為下列何者？



(A) 次文化 (B) 低文化 (C) 次等文化 (D) 主流文化。

答案：(A)

6.() 以下為一位少數族群代表與政府官員協商時所做出的回應，他的憂慮應是擔心政府造成下列何種狀況？

政府以主觀立場認為我們的生活方式不夠進步，因此制定這項政策，但這是我們族群獨特的風俗習慣和信仰方式，並未對他人造成危害，若強制我們遵循政策，將導致傳統文化難以傳承，請政府多多傾聽族人的聲音。

(A) 次文化 (B) 多元文化 (C) 文化位階 (D) 文化差異。

答案：(C)

解析：由發言內容可知政府未能尊重該族群文化，壓縮該文化的生存空間。

7.() 以下為某雜誌刊登的臺灣文化速寫觀察，這篇文章的主題應與下列何者最相關？

臺灣年輕人愛吃炸雞、漢堡和可樂，上班族人手一杯咖啡，這些都是美國電影、美劇經常出現的場景，不知何時起，卻成為臺灣生活的日常。

(A) 殖民地政府的文化擴張運動 (B) 在地傳統飲食文化的獨特性 (C) 弱勢文化對文化位階的抵抗 (D) 強勢文化傳播的媒體影響力。

答案：(D)

解析：文章內容顯示臺灣社會在不自覺中受到

媒體影響，改變日常生活習慣。

- 8.() 幾名網友在討論電影話題，關於內容中所提及的問題，以下哪一項分析較為正確？



- (A) 美國電影較能貼近臺灣民眾的生活 (B) 臺灣傳統題材正面迎擊外來文化的挑戰 (C) 美國強勢文化以其優勢資源不斷擴張 (D) 臺灣電影應仿效美國使用各種特效。

答案：(C)

解析：美國以豐厚的資源與資金製作電影，並大舉促銷至其他國家，無形中也傳遞美國文化的價值觀。

- 9.() 呂教授強調：「萬物都有其生存的權利。」請問：呂教授是在說明哪一種倫理道德？ (A) 五倫 (B) 第六倫 (C) 校園倫理 (D) 環境倫理。

答案：(D)

- 10.() 下列哪一種社會規範是透過各種經典和戒律，獎善懲惡，來約束社會成員的日常生活？ (A) 法律 (B) 倫理道德 (C) 宗教信仰 (D) 風俗習慣。

答案：(C)

解析：宗教常會透過經典和戒律來約束成員，例如基督教的《聖經》、回教的《可蘭經》等，故答案應為宗教信仰。

- 11.() 為了維持路上交通秩序，政府制定《道路交通管理處罰條例》，以取締闖紅燈的行為。請問：上述屬於下列何種社會規範？ (A) 法律 (B) 風俗習慣 (C) 宗教信仰 (D) 倫理道德。

答案：(A)

解析：(A) 政府以法律所賦予的公權力處罰違法者。

- 12.() 下列是小麥對「社會規範」的認知，其中何者錯誤？ (A) 所有社會規範都可能隨著時間與空間而產生變動 (B) 社會規範中，只有法律才具有強制力 (C) 在價值觀多元的現代社會，宗教信

仰是維持社會秩序不可或缺的手段 (D) 社會中的種種互動，應依循社會規範。

答案：(C)

解析：(C) 應是法律。

- 13.() 以下是一名外國人士受訪內容，若以志願結社的特徵來判斷，他想爭取的自由應是指下列何者？

我加入一基督教教會，信徒都是街坊鄰居，平常都是靠大家的捐獻，支持教會活動，但政府最近突然介入，發公文要求我們必須閱讀被曲解修改過的假聖經，以及向國家領導人照片膜拜，我不想這麼做，我認為政府不該干涉教會內部運作，這是我們的自由。

- (A) 民間性 (B) 非營利性 (C) 自主性 (D) 組織性。

答案：(C)

解析：志願結社成員應可自主決定其行動，不受政府控制。

- 14.() 結社自由是我國公民享有的權利，對於附圖內容中提及的志願結社，以下說明何者正確？



- (A) 成員可以基於自由意願加入 (B) 主要經營者為民間企業機構 (C) 屬於官方社會福利組織之一 (D) 組織運作必須經過政府同意。

答案：(A)

解析：志願結社是不屬於政府組織的非營利團體，運作具自主性。

- 15.() 阿司想為社會貢獻一己之力，希望藉由參與團體成為志工的方式關心公共事務。請問：阿司應該參加下列哪一個團體才能達成這個目標？ (A) 中華電信工會 (B) 臺灣大學籃球社 (C) 人安基金會 (D) 政黨。

答案：(C)

- 16.() 「即使是跟政府持反對立場，人民均可依法表達意見。」上述是嘉卿從參考文件中找到的資訊，以下哪一疊文件應為其來源？

- (A)

公	辦	遊
民	座	行
投	談	抗
票	會	議

 (B)

直	網	買
播	路	賣
銷	購	交
售	物	易

 (C)

-)

風	文	溫
土	化	泉
誌	之	攻
	旅	略

 (D)

運	保	中
動	健	藥
健	八	概
身	招	述

。

答案：(A)

解析：內容應是關於公眾意見的表達，故選(A)。

- 17.() 曉華平日就很關注公共事務。今年底有4項公投案，他對公投題目仔細研究，以便投票當日做出明智的抉擇。請問：關於上述表達公共意見方式的說明，下列何者正確？(A)具強制力，民眾須全體參與 (B)由民間主辦，政府完全不干預 (C)過程較激烈，容易出現暴力 (D)展現民意，影響政府決策。

答案：(D)

解析：藉公民投票表達民意，可影響政府決策。

- 18.() 政府施政通常會採納民眾意見做為參考，下列何種表達意見的方式欠缺理性？(A)借助媒體投書，提出質疑 (B)透過民意代表，反映民情 (C)經由公民投票，支持施政 (D)公布官員隱私，表示抗議。

答案：(D)

解析：表達意見應理性和平，不應侵犯他人權益。

- 19.() 澄筑為解說公共意見的特性，蒐集資料作成附表，根據表中資料判斷，下列何者敘述正確？

針對甲法案制定民意調查	
選項	人數百分比
同意	53%
不同意	47%

- (A)此項議題存在兩種不同意見 (B)調查結果影響民眾對政府的信任度 (C)公開民眾意見已造成社會嚴重分裂 (D)公共意見的不穩定性使民意毫無價值。

答案：(A)

解析：表中顯示民眾對同一議題持不同看法。

- 20.() 政府發布一項政策，阿瑋在觀察民眾的反應後做出以下看法，下列哪一項敘述較為貼近他的觀察？

由於訊息龐雜混亂，短時間內，民眾的想法容易受到外在影響而不斷改變。應該提供他們比較充足客觀的資訊可做為思考判斷之用，才不至於立場搖擺不定。

- (A)公共意見立場漸趨一致 (B)公共意見呈現不穩定性 (C)公共意見表達受到限制 (D)公共意見並無參考價值。

答案：(B)

解析：由內容可知，民眾尚無法形成較固定的立場及想法，呈現不穩定性。

- 21.() 百洋出生在「醫師世家」，爺爺、爸爸、叔叔等家庭成員皆是醫師，他在醫學院畢業後也順利考取執照，成為一位正式的醫師。請問有關百洋的敘述何者正確？(A)題幹可看出百洋家社會流動的歷程 (B)百洋透過教育改善其社會地位 (C)百洋的家庭背景，比一般人更容易能從事醫師此職業 (D)百洋的社會地位是與生俱來的。

答案：(C)

解析：家人都是醫師，可以從小取得較多資源，因此較一般人更容易成為醫師。

- 22.() 下列社會地位產生的方式何者與其他三個不同？(A)種族 (B)職業聲望 (C)家世背景 (D)性別。

答案：(B)

解析：職業聲望是經由個人努力才能取得的社會地位。

- 23.() 從附圖兩位父親的煩惱中可以看出社會中哪一方面的不公平？



- (A)貢獻程度 (B)責任負擔 (C)需求滿足 (D)利益分配。

答案：(D)

解析：兩位爸爸的煩惱顯現出貧富差距的狀況。

- 24.() 全國368個鄉鎮區中，有3個「無醫鄉」。無醫鄉是指缺乏醫院或診所的鄉鎮，居民需到別的城市尋求治療。請問：這反映社會中哪一不公平的現象？(A)利益分配 (B)責任負擔 (C)貢獻程度 (D)需求滿足。

答案：(D)

解析：偏鄉資源不足，醫療需求未被滿足。

- 25.() 政府興建租金相對便宜的社會住宅，由中、低收入戶優先承租，照顧有住屋需求的弱勢民眾。這項政策對於下列哪一方面不公平現象有何改善？ (A)需求滿足 (B)利益分配 (C)責任負擔 (D)貢獻程度。

答案：(A)

解析：依個人需求給予適當的資源。

- 26.() 由附圖內容判斷，此圖蘊含下列何種精神？

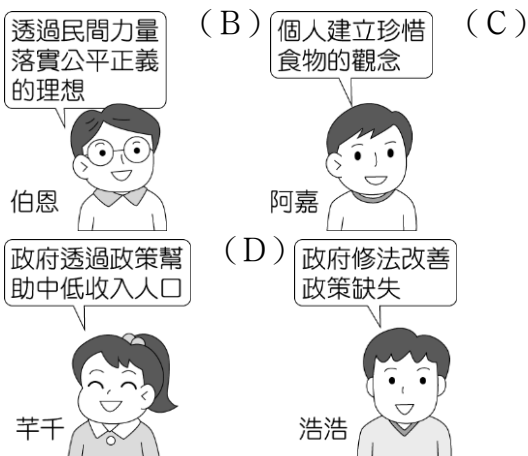


- (A)社會流動 (B)公平正義 (C)性別平等 (D)文化傳承。

答案：(B)

解析：減少不公平的現象，就是我們所要追求的「公平正義」。

- 27.() 根據統計，臺灣每年浪費約 68 萬噸食物，卻有近 70 萬的中低收入人口三餐無法溫飽，因此有許多慈善團體，透過將剩餘食物發送給弱勢群體，讓食物再分配、再分享及再利用。請問：上述團體的行為符合下列哪一概念？ (A)



答案：(A)

解析：慈善團體屬於民間力量。

- 28.() 《史記》紀載，漢孝文帝勤政愛民，在位時施行德政，發放糧食、生活必需品等救助弱勢人民，安定民心，其執政主要成就便在於穩定漢初社會秩序，發展經濟，開創文景之治。由上述可知，為達到此一目的，何種政策的重要性？ (A)國防外交 (B)教育文化 (C)社會安全 (D)國民經濟。

答案：(C)

解析：(C)題幹提及政府幫助身處困境的人民，可知孝文帝重視弱勢生活。

- 29.() 依附圖的情境判斷，志豪應適用下列哪一種社會保險？



- (A)勞工保險 (B)農民保險 (C)國民年金保險 (D)公務人員保險。

答案：(C)

解析：志豪沒有就業，因此適用國民年金保險。

- 30.() 花蓮縣豐濱鄉港口部落的原住民與林務局合力復耕石梯坪上的水梯田，利用在地資源，推動部落的永續發展。請問：上述應與哪一項社會福利措施有關？ (A)社區營造 (B)社會救助 (C)就業安全 (D)健康與醫療照護。

答案：(A)

解析：利用在地資源，推動社區的永續發展，屬於社區營造的福利政策。