

一、單題 (每題 4 分, 共 100 分)

1. () 附圖是與佩鈴同組的同學針對報告主題所表演的情境。請問：佩鈴報告的主題最可能為下列何者？



- (A) 經濟發展的隱憂 (B) 弱勢文化的反撲 (C) 資訊科技的運用 (D) 消費習慣的改變。
2. () 金鋼國國內礦產資源豐富，但因自然環境不佳而缺乏糧食作物，故以出口工業原料來換取糧食作物的進口。上述金鋼國可以藉由進出口來補足國家所需，和下列哪一因素關係最大？
- (A) 資訊科技進步 (B) 文化交流頻繁 (C) 交通運輸發達 (D) 城市高度發展。
3. () 在全球化的潮流下，國際社會中的互動變得更加多元。附圖中的對話內容，顯示我國透過何種方式參與國際社會？



- (A) 提供國際援助 (B) 籌組國際組織 (C) 推動國際貿易 (D) 參與國際賽事。
4. () 芊芊看到一則新聞，從這則新聞我們可以得知下列哪項結論？
- 萊克多巴胺原先是研發作為治療氣喘的藥物，因發現可以增加動物肌肉，使動物更為健美，而被使用為飼料添加物，俗稱瘦肉精。目前的實驗數據無法確定是否會對人體產生副作用，然而臨床實驗會出現心跳過速、四肢肌肉顫抖、頭暈、頭疼等症狀。但因人體實驗的樣本數太少，無法認定此藥物在科學上安全無虞，因此各國對於萊克多巴胺在肉類的殘留容許量標準不一。
- (A) 萊克多巴胺對人體是否有幫助或有危害尚未有定論 (B) 萊克多巴胺可以治療人類氣喘，也可增加人類肌肉 (C) 目前各國禁止萊克多巴胺用於飼料作為生長促進劑 (D) 萊克多巴胺已有足夠的人體實驗樣本證實其安全性。
5. () 世界各國的文化透過許多面向進行互動，關於附圖情境所顯示的現象，下列敘述何者正確？



- (A) 傳統文化與外來文化彼此融合互補 (B) 西方文化的傳播對傳統文化觀念帶來衝擊
(C) 傳播媒體有助於加深對原有文化的認同感 (D) 西方文化的擴張對於原有文化並無影響

6. () 勝杰在金融雜誌上看到一篇關於國際資金流動的分析如下：「為避開風險，大筆國際資金抽離各國股市，轉而投入新興國家原物料市場，導致股價指數大幅下跌。」請問：下列何者最符合上述內容的意涵？ (A) 社會化 (B) 全球化 (C) 工業化 (D) 資訊化。
7. () 因全球化帶來的弊端需要全人類共同關心，如附圖對話中所討論的，屬於下列哪一議題？



- (A) 勞動權益議題 (B) 文化議題 (C) 資源分配不均議題 (D) 環境議題。

8. () 休閒零食市場競爭激烈，日、韓商品琳瑯滿目，一家廠商捨棄原有包裝，將果凍盒的外裝盒設計成如同傳統裝水果的紙箱，創意的包裝手法，獲得許多消費者的青睞。請問：關於上述業者的做法，下列敘述何者正確？ (A) 企業轉換經營模式，進行產業分級 (B) 結合外國廠商資源，拓展國際市場 (C) 傳統產業發揮創意，增加產品競爭力 (D) 調整商品價格，建立品牌形象。
9. () 面臨全球各種議題，個人應該如何善盡世界公民責任？ (A) 排拒國際訊息，以防止價值觀受到影響 (B) 擔任海外志工，表達對世界的關懷 (C) 維護傳統文化，減少國際交流機會 (D) 低度發展國家較為落後，應避免雙方互動。
10. () 玉敏在網路上求助，內容如下。請問：下列哪位網友的回答最為正確？


請問歌曲的智慧財產權規定？
發問者：玉敏（3級）
我想請問我朋友創作了一首歌曲，關於這首歌曲的著作權保障期限如何計算呢？

- (A) 阿依：任何著作權作品都沒有保障期限 (B) 帆帆：只要向政府申請，你朋友可以自行決定保障期限 (C) 小知：歌曲一被完成開始計算 50 年的保障期限 (D) 大裘：從你朋友完成歌曲開始，到他死後 50 年為止。

11. () 大家在課堂上討論全球化所造成的影響，下列哪一位同學的舉例比較恰當？

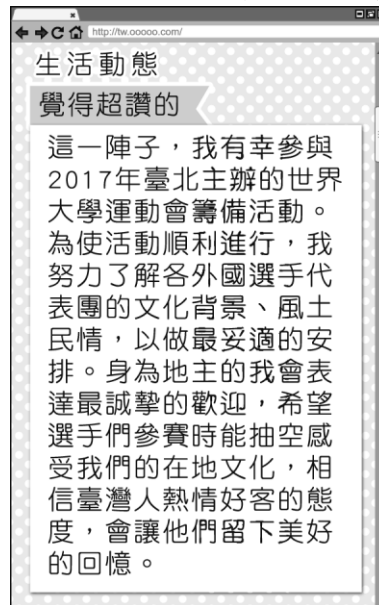
- (A) (B) (C) (D)

12. () 「占領華爾街」運動是源自於 2011 年美國民眾為了抗議政府對失業問題的無能及對大企業的偏袒與縱容，而占據紐約市華爾街發起一連串的集會活動。附圖為「占領華爾街」運動所引發的效應，這種現象稱為下列何者？



(A)全球關連 (B)國際分工 (C)永續經營 (D)跨國貿易。

13. () 隨著電腦與網路結合後，資訊科技廣泛運用在各種領域中，智慧型手機的普及，更讓全球民眾打破時間與空間的限制。住在基隆的小浚，若想在12月1日時，準時收看英國當地時間下午1點的英格蘭足球超級聯賽，他應該在幾點時收看？ (A)上午8點 (B)下午8點 (C)下午9點 (D)上午9點。
14. () 潔憶在網誌上更新最新動態(如附圖所示)，根據內容判斷，下列敘述何者正確？



(A)潔憶的作法將導致文化衝突擴大 (B)國際互動不利於在地文化的發展 (C)舉辦世界大學運動會有助於培養多元文化精神 (D)文化交流的速度在此類活動中較為緩慢。

15. () 附圖為浩誠在圖書館看到某本書的部分內容。從內容推知，該書最適合做為以下哪個主題的討論素材？

我們生活中追求CP值高的便宜商品，其實伴隨著看不見的成本。
 跨國企業為降低生產成本，將物品外包到世界某個不為人知的窮鄉僻壤去製造，剝削當地的勞工，以追求商品的低價，這就是CP值的真實來源。
 CP值：為性能與價格的比值，CP值高，代表該商品效能好又便宜。

(A)全球商品多樣性 (B)跨國投資的風險 (C)勞動權益的保障 (D)跨國界經濟犯罪。

16. () 祥惠繪製投影片說明某現象造成的影響(如附圖所示)。請問：祥惠說明的現象較可能為下列何者？

英國脫歐公投始末簡圖



(A)全球關連 (B)社會運動 (C)投資風險 (D)計畫經濟。

17. () 德國導演溫德斯曾說：「看電影就等同於在看美國電影。」而南韓政府為了避免好萊塢壟斷世界電影市場，制定「銀幕配額」制度，限制每年必須至少上映 260 天南韓國產電影，而電視臺每年也須播映 40% 的自製影片。請問：南韓政府的這些政策，將產生下列何種影響？

(A)造成本國語言、傳統習慣逐漸消失 (B)避免本國文化在西方文化強勢擴張之下逐漸消失 (C)鼓勵民眾接受西方文化的傳遞 (D)有助於國內文化漸趨單一性。

18. () 茹蘋看到某國官員接受媒體專訪時，做出以下回覆，依回覆內容判斷，此項跨國交易能順利完成的最大因素為下列何者？

……跨國運送時間長達 10 幾個小時，所幸設置優良的低溫運輸設備，確保從歐洲購買的疫苗不在運送途中變質。

(A)政府部門的支持 (B)生產原料的充足 (C)外交單位的協助 (D)運輸系統的完善。

19. () 瓏雯在個人社群網頁上發布以下一則消息，根據內容判斷，當中所稱智慧財產權應是指下列何者？

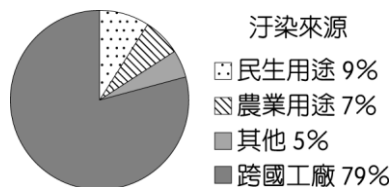
我在作品下方空白處會放上創用 CC 的授權，歡迎大家使用的同時，也請尊重我的智慧財產權，謝謝！

(A)專利權 (B)隱私權 (C)著作權 (D)商標權。

20. () 下列何種現象使得世界各地的往來更加密切，國際間互相依存？ (A)工業化 (B)都市化 (C)全球化 (D)區域化。

21. () 永卿想要確認著作權合理使用的範圍，他列舉了多項行為，下列何者即屬之？ (A)到朋友的部落格下載偶像歌手的音樂 (B)利用未獲正版授權的電視盒觀看節目 (C)下載多篇討論專利權的文章進行研讀 (D)複印多本科幻小說，分送給同學閱讀。

22. () 某開發中國家水資源污染程度嚴重，政府相關單位檢測結果如附圖。根據數據判斷，下列敘述何者最正確？



(A)民眾應當節約用水、共體時艱 (B)興建水庫可有效改善用水問題 (C)跨國經濟活動帶來生態隱憂 (D)農業發展成為最大的污染源。

23. () 在全球化的時代，面對西方文化的擴張，某些在地文化可能面臨生存的危機。面對此一危機，我們應該採取下列哪一種作為？ (A)維護及發展獨特的在地文化 (B)全盤接受西方文化 (C)拒絕與西方文化交流 (D)促使全球文化走向單一化。

24. () 由於國際貿易的發展，商品跨國流通，頻繁進行交易。依照附圖對話內容判斷，下列何者說明正確？

請問為什麼最近長條蛋糕漲價？

我們原本使用國外進口的原料，但由於長榮貨運船擱淺，原料進不來，我們改買國內生產的原料，所以成本提高。



(A)進口原料較國內原料價格高 (B)外國原料進口導致原料的市場價格高漲 (C)外國原料讓店家能有低價選擇 (D)店家為降低成本選擇國內原料。

25. () 下列哪些組織屬於「國際非政府組織」？(甲)國際特赦組織(乙)國際世界展望會(丙)亞太經濟合作會議(丁)國際綠色和平組織 (A)甲乙丙 (B)甲乙丁 (C)乙丙丁 (D)甲丙丁。

1. 答案：(C)
2. 答案：(C)
3. 答案：(D)
4. 答案：(A)
5. 答案：(B)
6. 答案：(B)
7. 答案：(A)
8. 答案：(C)
9. 答案：(B)
10. 答案：(D)
11. 答案：(B)
12. 答案：(A)
13. 答案：(C)
14. 答案：(C)
15. 答案：(C)
16. 答案：(A)
17. 答案：(B)
18. 答案：(D)
19. 答案：(C)
20. 答案：(C)
21. 答案：(C)
22. 答案：(C)
23. 答案：(A)
24. 答案：(C)
25. 答案：(B)