

一、選擇

1. ( ) 近年來臺灣有許多行政區域進行改名，如嘉義縣的吳鳳鄉改為阿里山鄉、高雄市的三民鄉改制後改稱那瑪夏區。這些行政區更名的原因，最可能為下列何者？ (A)各地方政府為賦予道德教化 (B)臺灣法律規定下的命名原則 (C)尊重原住民族歷史及傳統文化 (D)這些地區的自然環境均類似。

《答案》C

2. ( ) 臺灣在古書中曾被稱為「大員」，十七世紀初時所指的大員應是為今日何處？ (A)臺北淡水 (B)彰化鹿港 (C)臺南安平 (D)高雄旗津。

《答案》C

3. ( ) 臺灣西南部過去因為製鹽產業而出現名為「鹽埕」的地名，其中的「埕」字與下列何種地形特徵最具相關性？ (A)凸起 (B)崎嶇 (C)凹陷 (D)平坦。

《答案》D

4. ( ) 下列共有幾項行政區名稱與中華民國政府時期，被賦予政治意識或道德教化含義有關？(甲)桃園市復興區 (乙)臺中市和平區 (丙)南投縣信義鄉 (丁)高雄市那瑪夏區 (A)1項 (B) 2項 (C)3項 (D)4項。

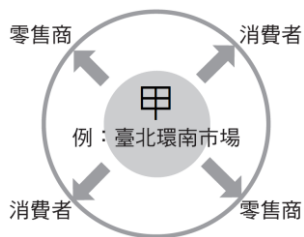
《答案》C

5. ( ) 臺灣某直轄市的市徽為雙桃相疊，指的是該地區昔日滿園桃樹；除了市徽之外，該行政區的市樹是桃樹，市花則是桃花。請問：上文中提及的行政區應為右圖中何者？ (A)甲 (B)乙 (C)丙 (D)丁。



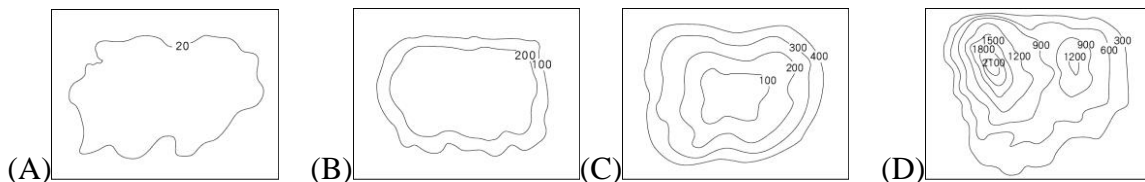
《答案》A

6. ( ) 附圖為臺灣某種市場的運作模式，屬於全國性生產與銷售的一環。根據此圖判斷，此種市場最有可能是下列何者？ (A)集貨市場 (B)便利商店 (C)集中市場 (D)超級市場。



《答案》C

7. ( ) 臺灣有部分鄉鎮市區的名稱被政府賦予政治意識或是道德教化的含意，如桃園市復興鄉、臺中市和平區、南投縣信義鄉等，上述這些行政區的主要地形多可用下列哪一張等高線圖呈現？



《答案》D

8. ( ) 客家族群由於具有遷徙的歷史背景，加上較為艱苦的生活環境，常使用醃製方法將芥菜製作成酸菜、福菜、梅干菜等。請問：客家族群的這種食物處理方式，最主要的目的為何？ (A)增添美味 (B)賣相更佳 (C)方便即食 (D)防腐保存。

《答案》D

9. ( ) 臺灣某行政區內出現許多如鹽埕、鹽埕埔等，與傳統晒鹽、製鹽產業有關的地名，顯示此地過去的傳統產業。請問：該行政區最可能位於臺灣的哪一個區域？ (A)北部區域 (B)南部區域 (C)中部區域 (D)東部區域。

《答案》B

10. ( ) 下列關於臺灣飲食文化的變遷，何者敘述正確？ (A)甲丙 (B)乙丙 (C)甲乙 (D)丙丁。

項目 時期	(甲) 食物 里程	(乙) 食物保 存方式	(丙) 食物 來源	(丁) 食物 種類
傳統 農業	較短	添加化 學物質	自家種 植或鄰 近生產 地	較多樣
現代 社會	較長	醃製和 發酵為 主	來自世 界各地	較單一

《答案》A

11. ( ) 下列關於臺灣的食物產銷流程的敘述，何者正確？ (A)地方性產銷是近年才出現的產銷流程 (B)地產地消的概念會增加食物里程 (C)地方性產銷的農產供應與市場的距離較全國性產銷更近 (D)全國性產銷主要流程是生產者可直接將作物銷售到消費者手中。

《答案》C

12. ( ) 臺灣於西元 2002 年正式加入 WTO，右表呈現其中幾年分臺灣糧食自給率與農業實際產值的資料。表格所呈現的資料，反映臺灣加入 WTO 後，農業首要面臨的主要衝擊為何？而臺灣透過何種策略來提振農業生產總值、減少食物里程與食安風險？ (A)國外農牧業產品的競爭；地產地消 (B)國外農業勞動力的競爭；全國產銷 (C)國外農牧業產品的競爭；全球產銷 (D)國外種籽供應商的競爭；科技產銷。

加入 WTO 以來糧食自給率變動情形		
民國／年	以價格為權數	
90	81.9%	
91	81.4%	
92	77.8%	
註：糧食自給率=生產/國內需要		
加入 WTO 以來的農業實際產值		
年	農業 產值	成長率 (與基期年比較)
89	3,641 億	基期年
91	3,496 億	-4.0%
93	3,818 億	4.9%
註：基期年=比較的基準年分		

《答案》A

13. ( ) 佩潔查詢包含某些與地形之名稱的地名後，發現其空間分布主要集中在臺灣北部濱海的鄉鎮市區。請問：佩潔查詢的最可能是下列哪一組地形關鍵字？ (A)山、崁、崙 (B)洲、汕、湖 (C)角、鼻、澳 (D)崎、埔、坑。

《答案》C

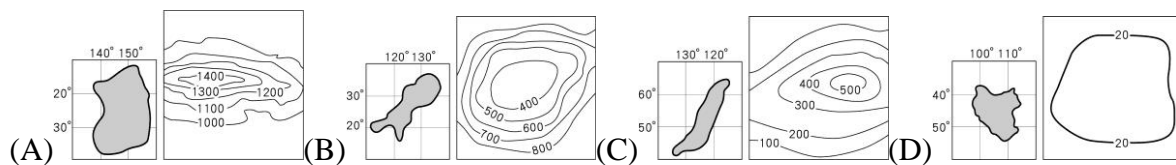
14. ( ) 阿波在網路上查閱臺灣縣市名稱的命名依據時，出現以下四種說法，何者正確？ (A)基隆舊名「雞籠」是因為飼養雞群 (B)新竹舊名「竹塹」源自於種植刺竹 (C)苗栗舊名「猫裏」源自原住民社名 (D)宜蘭舊名「噶瑪蘭」是因種植蘭花。

《答案》C

15. ( ) 臺灣從美國進口的農產品主要有小麥、玉米、黃豆等，上述這些進口的農作物在生產過程中，多具有何種特色？ (A)投入的勞力程度較高 (B)多為粗放耕作類型 (C)生產的單位成本較高 (D)多種作物混雜栽種。

《答案》B

16. ( ) 下列為不同小島的緯度與主要地形資料，若僅依自然條件而論，哪一座島嶼能夠生長出最多樣的水果種類？



《答案》A

17. ( ) 甜菜糖是由一種叫做甜菜的農作物製成，甜菜對土壤的適應能力強，且喜歡冷涼的氣候。「甲」國多達 95% 的甜菜糖原料是來自基因改造的甜菜。請問：依據甜菜的生產環境及全世界主要的基因改造作物種植國家判斷，文中提及的「甲」國應為下列何者？ (A)巴西 (B)美國 (C)印度 (D)菲律賓。

《答案》B

18. ( ) 下列為四座土地公廟(福德正神)的外觀照片，從圖中可以看出土地公廟所在的位置或聚落名稱。請根據照片中的地名判斷，哪一個土地公廟的位置最可能是在河流附近？



(A)



(B)



(C)



(D)

《答案》B

19. ( ) 甲、乙、丙、丁四位同學在下課時，聚在一起討論一般農業與有機農業的差異。以下是四人的敘述內容，哪位同學的敘述完全正確？ (A)甲生：有機農業的農產品生產效率高於傳統農業，對環境的影響較輕微 (B)乙生：一般農業因為需要花費資金採購除草劑、殺蟲劑，所以一般農業的生產成本高於有機農業 (C)丙生：一般農業會使用除草劑、殺蟲劑，來減少病蟲對於農產品的危害 (D)丁生：有機農業使用的有機肥料，混合了動植物所產生的廢棄物與化學肥料，經過發酵製作而成。

《答案》C

20. ( ) 右表是民國 109 年臺灣糧食國內生產量與國外進口量的部分品項資料。觀察表中資料可發現，穀類與其他品項不同，國外進口量較國內生產量高出許多，下列何者為可能的原因之

品項	國內生產量	國外進口量
穀類	1,531.3	6,499.2
蔬菜類	2,432.8	465.3
肉類	1,641.1	557.6
水產類	891.0	475.1
乳品類	450.0	248.0

(單位：千公噸)

一？ (A)國內生產技術較差 (B)相較於其他品項穀類產品較易保存 (C)全臺各地皆無法種植出穀類產品 (D)其他品項生產主要以出口為主。

《答案》B